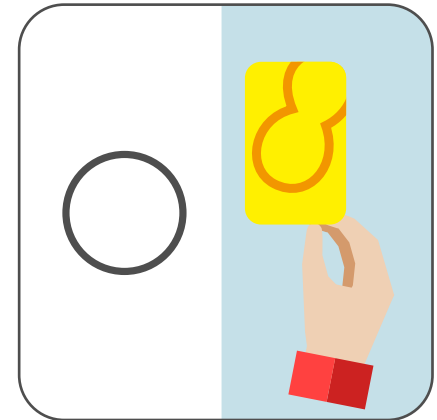
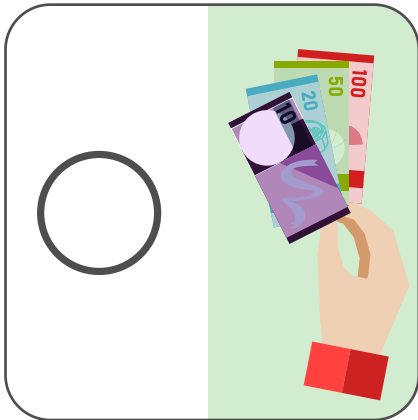

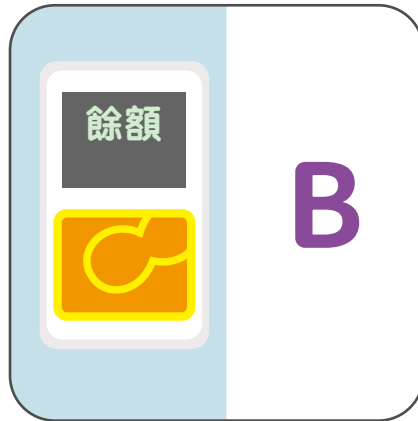



你認識不同的支付方式嗎？

請於下圖找出不同的支付方式，然後配對相關的支付工具來完成付款。



B. 找出用最少硬幣的付款方法：



A. 個10元, 個5元, 個2元, 個1元

B. 共用硬幣 _____ 個。



A. 個10元, 個5元, 個2元, 個1元

B. 共用硬幣 _____ 個。

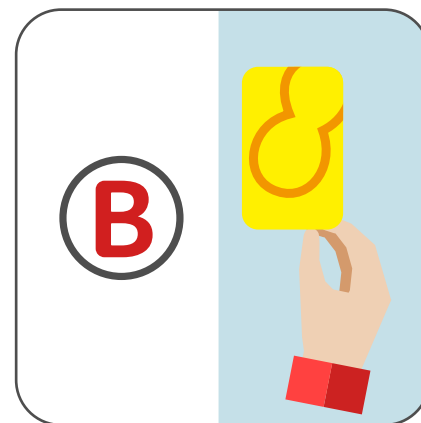

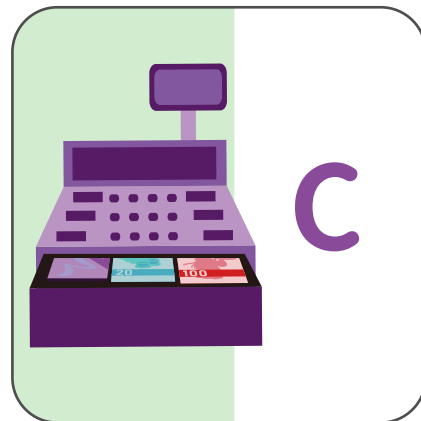
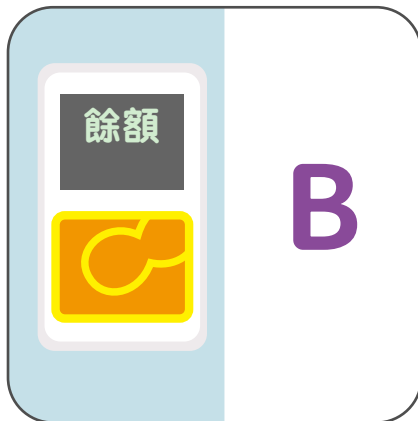
學習小貼士

我們需要存錢入儲值支付工具，
才能使用儲值支付卡去付款呀！




你認識不同的支付方法嗎？

請於下圖找出不同的支付方法，然後配對相關的支付工具來完成付款。



B. 找出用最少硬幣的付款方法：



A. 個10元, 個5元, 個2元, 個1元

B. 共用硬幣 2 個。



A. 個10元, 個5元, 個2元, 個1元

B. 共用硬幣 5 個。

學習小貼士

我們需要存錢入儲值支付工具，
才能使用儲值支付卡去付款呀！

